

小学3年社会

小学3年社会「まちたんけん1①」	1
小学3年社会「まちたんけん1②」	2
小学3年社会「まちたんけん1③」	3
小学3年社会「まちたんけん2①」	4
小学3年社会「まちたんけん2②」	5
小学3年社会「まちの人々の仕事（はん売）①」	6
小学3年社会「まちの人々の仕事（はん売）②」	7
小学3年社会「まちの人々の仕事（はん売）③」	8
小学3年社会「まちの人々の仕事（はん売）④」	9
小学3年社会「まちの人々の仕事（市場）①」	10
小学3年社会「まちの人々の仕事（市場）②」	11
小学3年社会「まちの人々の仕事（市場）③」	12
小学3年社会「昔しらべ①」	13
小学3年社会「昔しらべ②」	14
小学3年社会「昔しらべ③」	15

小学3年社会「まちたんけん1①」

年 組 名前

方位とは、東西南北の向きのことを言います。正確な方位を知りたいときは、方位磁針を使います。それでは、方位磁針とはどのようにして使えばよいのでしょうか。

方位磁針の使い方

方位磁針…磁石である磁針を中心で支え、自由に回転できるようにしたもの。どこでも南北をさして止まるので、方位を知るのに使います。

磁針の動きが止まったら、磁針の色のついていいる方（N極）と、文字盤に書かれている南・東・西などの方向がそれぞれの方位を示しています。

注意！方位磁針の近くに磁石や鉄があると、それらと磁針とがはたらき合うので、正しい方角を示さなくなります。

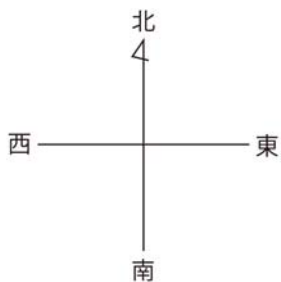
方位の種類

東・西・南・北の**四方位**、北東・南東・南西・北西を加えた**八方位**などがあります。



どうやって方位を確かめるの？

方位は、自分が立っているところを中心と考えて、確かめます。



昼の12時ごろには、かげが北にできる。

太陽がのぼるのが東である。

太陽がしずむのが西である。

右手を東に合わせると、顔が向くのが北になる。背中が向くのが南である。

屋上などの高い場所で確かめるとよい。

☆問題

次の中で、方位を確かめるときの方法としてあてはまらないものがあります。1つえらび、その番号を書きましょう。

- 1 方位磁針を使う。
- 2 太陽がのぼるのが東である。
- 3 太陽がしずむのが西である。
- 4 昼の12時ごろには太陽は北にある。

答え

小学3年社会「まちたんけん1②」

年 組 名前

ほうい 方位について考えながら町を見てみよう

学校の屋上で観察をしたことを、地図にまとめました。

下の地図を見て、学校のまわりのようすが、方位によってちがうことに気づくことができます。

・北には何がある？

学校から見て、北の方位には病院
があります。また、北東の方角には
工場があります。さらに北西の方角
には市役所があります。



・南には何がある？

学校から見て、南の方角にはけいさ
つしよが見えます。また、南東の方角
には神社があります。さらに南西の方
角には消防しよがあります。

・西には何がある？

学校から見て、西の方角には郵便局があります。

・東には何がある？

学校から見て、東の方角には寺があります。

☆問題

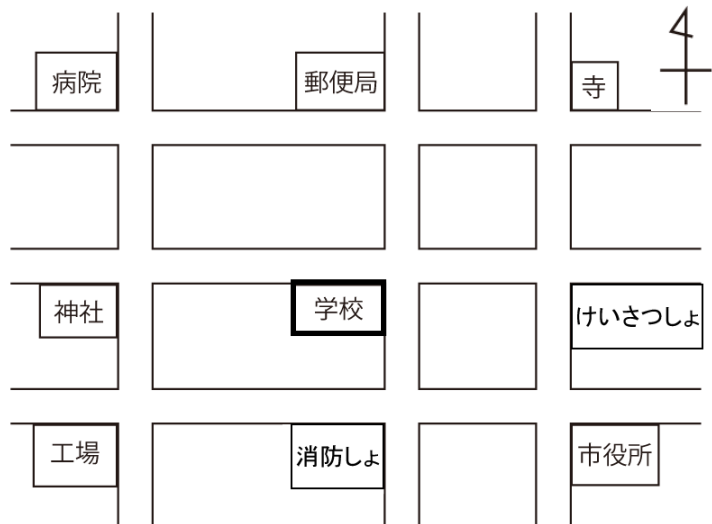
下の地図を見て、次の問いに答えましょう。

- 学校から見たときに、郵便局はどの方位にありますか。あてはまるものを1つえらび、その番号を書きましょう。
- 学校から見たときに、神社はどの方位にありますか。あてはまるものを1つえらび、その番号を書きましょう。

- 1 北 2 南
3 東 4 西

(1) 答え

(2) 答え



小学3年社会「まちたんけん1③」

年 組 名前

☆問題1

下の図の方位磁針の

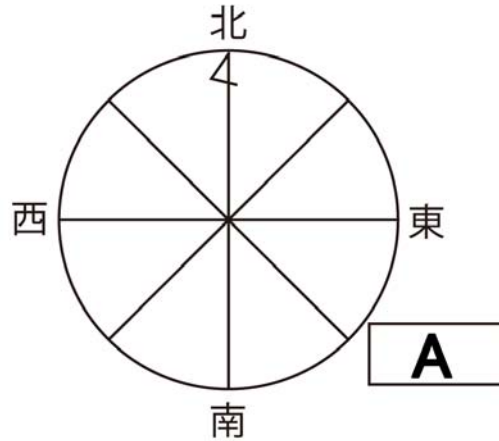
ほういじしん

A

にあてはまる方位は何ですか。1つえらび、その番号を書きましょう。

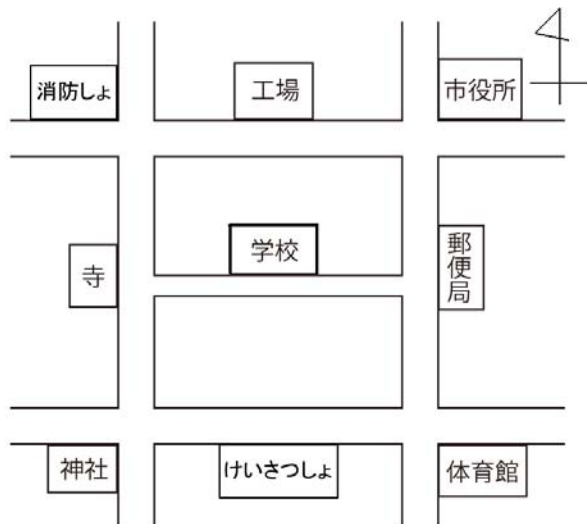
- 1 北東
- 2 南東
- 3 南西
- 4 北西

答え



☆問題2

下の地図はあるまちのようすを表したものです。この地図を見て次の問いに答えましょう。



(1) 学校から見て市役所はどの方位にありますか。

答え

(2) 学校から見て南東にあるのは何ですか。

答え

(3) この地図からわかることとして、あてはまらないものがあります。1つえらび、その番号を書きましょう。

- 1 学校の北に郵便局があります。
- 2 工場の南に学校があります。
- 3 寺の東に学校があります。
- 4 郵便局の西に学校があります。

答え



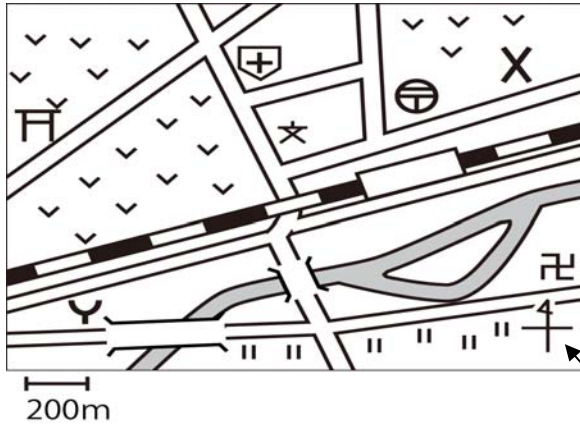
小学3年社会「まちたんけん2①」

年 組 名 前 _____

わたしたちが住む町はどのような所でしょうか。それは地図を正しく読み取るとわかります。では、地図とはどのようにして読むのでしょうか。

地図の読み方

下の地図は、ある町のようにすを表したものです。



地図記号 しっかり覚えておこう!

- 郵便局
- 交番
- 神社
- 寺
- 小中学校
- 病院
- 消防しよ
- 田
- 畑

じっさいのきよりを表すものさし

ほうい 方位を表す記号

そのほかのいろいろな地図記号

- 高校
- 役所
- けいさつしよ
- 工場
- 図書館
- 博物館
- 老人ホーム
- 風車 (風力発電機)

地図を読めるようになれば、町のとくちょうがわかります。

たとえば、上の地図を読み取ると、この町は畑や田がたくさんある農業のさかんな地いきであることがわかります。

★問題

下の1~4の地図記号の中から小中学校を表す地図記号を1つ選び、その番号を書きましょう。

1

2

3

4

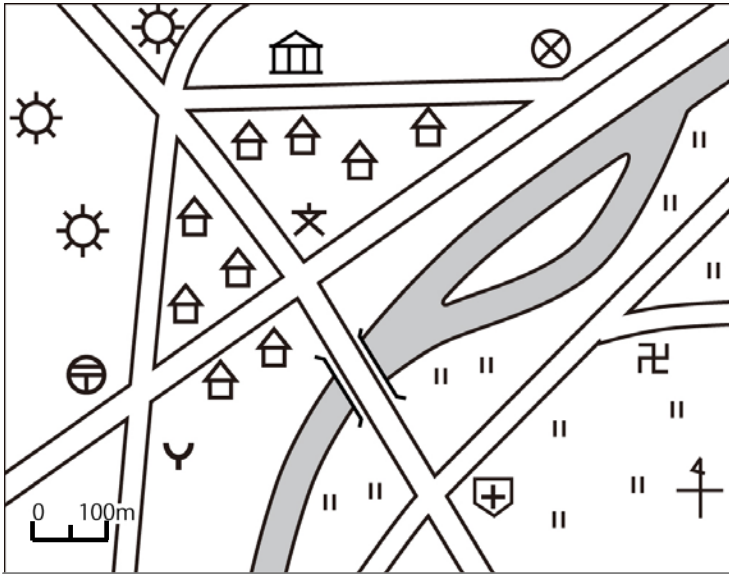
答え

小学3年社会「まちたんけん2②」

年 組 名前

☆問題

下の地図は、ある町の様子を表したものです。この地図を見てあとの問題に答えましょう。



(1) 次の地図記号を書きましょう。

(ア) 消防しよ しょうぼう 答え

(イ) 工場 答え

(2) 学校の屋上から北西を見たときの様子をのべたものとして正しいものを、次の1~4から1つ選び、その番号を書きましょう。

- 1 博物館があり、家がたくさん集まっている。
- 2 川の向こうに寺が見える。
- 3 郵便局や消防しよが見える。
- 4 工場がたくさん見える。

答え

(3) 地図から読み取れるこの町のとくちょうについてのべたものとして正しいものを、次の1~4から1つ選び、その番号を書きましょう。

- 1 学校を中心にたくさんの工場が集まっている。
- 2 川の西には工場、東には田がたくさんあり、農業も工業もさかんちいきである。
- 3 たくさんのひとが使う大きな駅を中心に大きくなった町である。
- 4 博物館から見て東側に交番がある。

答え

☆チャレンジ問題

問題の地図の中で、学校から病院までのきよりを、地図の中の「じっさいのきよりを表すものさし」を使って求めましょう。

答え m

月 日

小学3年社会「まちの人々の仕事（はん売）①」

年 組 名前

わたしたちが買い物をするスーパーマーケットでは、買い物がしやすいようにさまざまなくふうをしています。それらはどのようなものでしょうか。

スーパーマーケット

① お店の人の仕事

- ・ 肉や魚、野菜などを人が食べやすいように切り分ける。
- ・ レジを担当する。
- ・ 品物をならべる…品物を選びやすいよう、手に取りやすいようにしています。また、わかりやすいように、案内板などが用意されています。
- ・ 品物の売れ具合を調べる…足りなくなりそうな品物や、売れ具合を調べて、倉庫から運んだり、仕入れの調整をしたりします。

② スーパーマーケットのとくちょう

- ・ 広告チラシを見て、安売りの日に品物を選んで買い物ができる。
- ・ 駐車場が用意されている。
- ・ 食料品から衣料品・生活雑貨など、いろいろな種類の商品を一度を買うことができる。
- ・ 売り場が広い。



品物はどうやって仕入れられる？

① お客さんはどのような品物を求めているの？→安全なもの。できるだけ安いもの。

- ・ 農薬を減らして作った野菜など、安全で健康のためによいとされる品物。
- ・ どこで、どのようにして、どんな原料から作られたかわかる品物。

② どこから運ばれる？

- ・ たくさんの種類の、安全でよい品物を、少しでも安く売るために、日本国内だけでなく、外国からも仕入れてあります。
- ・ 野菜や果物は、青果市場を通さずに農家から直接仕入れているものもあります。安全で新鮮な品物を、できるだけ安く売るためのくふうです。

★問題

スーパーマーケットのとくちょう、くふうについて正しいものを、次の1～3から1つ選び、その番号を書きましょう。

- 1 安全な品物を仕入れるため、外国からの品物は売っていない。
- 2 買い物のほかにも、公共料金の支払いをしたり荷物を送ったりしている。
- 3 安売りの日に安い品物を選んで買い物ができるように広告チラシを作っている。

答え

小学3年社会「まちの人々の仕事（はん売）②」

年 組 名前

わたしたちが買い物をするのはスーパーマーケットではありません。商店がいもその中のひとつです。またお店のなかでも一般のお客さんには品物を売らないお店もあります。今回は中央区の西仲通り商店がい、横山町問屋がいを例に、商店がい、問屋がいのとくちょうを学習しましょう。

にしなかどお しょうてん
西仲通り商店がい

- ・ 月島にある、80年ほど前に作られた500mほどの商店がいです。160けんほどの商店があります。
- ・ 西仲通り商店街の人たちやボランティアの人々が店を出す7月の草市など年間を通してさまざまなイベントが行われています。
- ・ もんじゃのお店がたくさんあり、「もんじゃストリート」とよばれ、有名です。今では遠くからもんじゃを食べに商店がいへやってくる人もいます。

西中通り商店がいでは、お客さんを集めるために、お客さんが気持ちよく買い物ができるようないろいろなくふうをしています。

よこやまちょうとん や
横山町問屋がい

問屋がいてなに？

問屋とは各地域のお店の人がお客さんに売る品物を仕入れる店。小売り（いっばんの人に品物を売ること）をしない。問屋がいは問屋がたくさんまとまっているところ。

- ・ 日本橋横山町、日本橋馬喰町ばくろちょうにある問屋がいです。270けん近くの間屋があり、そのほとんどは衣料品関係の品物いりょうひんをあつかっています。その数は日本一です。
- ・ 洋服は作るのに時間がかかり、半年以上前には工場へせい品を作るようにれんらくし、仕入れなければならないので、問屋さんはどのようなデザインが流行するか予そくしなければなりません。
- ・ 品物は日本国内だけでなく、中国や東南アジアの国々からも集まってきます。
- ・ 品物は東京やその近くの洋品店で売られています。

★問題

西仲通商店がい、横山町問屋がいについて正しいものを、次の1～4から選び、その番号を書きましょう。

- 1 西仲通商店がいは、東京のおみやげをあつかう店を中心とした商店がいである。
- 2 横山町問屋がいは、日本の工場くわじょうで、ていねいに作られた衣料品しか仕入れない。
- 3 衣料品をあつかう問屋さんは、どのようなデザインが流行するか予そくしなければならない。
- 4 横山町問屋がいではお店の人に品物を売る以外に、いっばんの人に品物を売ることでお客さんを集めている。

答え

月 日

小学3年社会「まちの人々の仕事（はん売）③」

年 組 名前

★問題

次の文章のA、Bにあてはまる言葉それぞれ答えましょう。

（ A ）とはかく^{ちいき}地域のお店の人がお客さんに売る品物を仕入れる店である。一般の人に品物を売る、（ B ）は基本的に行わない。

答え A

B

★チャレンジ問題

次のしりょうは西仲通り商店がいの取りくみのようすを表したものです。しりょうから考えられる西仲通り商店がいの取りくみについてあてはまらないものを次の1～4から1つ選び、その番号を書きましょう。

西仲通りのイベントカレンダー

4月
春のハッピーまつり

7月中旬
草市

10月
よりどりみどり市

12月
歳の市

このほかに、毎月1回「びっくり市」

イベントカレンダー



インフォメーションセンター



草市のようす



おじいさんの話

※「おぼん」とは夏に行われる^{そせん}祖先をくようする行事



アーケード

- 昔から引きついできた行事を、そのままのすがたで続けようとしている。
- お客さんをよぶために、さまざまなイベントを行っている。
- アーケードを作って、雨でも安心して買い物ができるようにした。
- インフォメーションセンターで、わからないことを聞けるようにした。

答え

小学3年社会「まちの人々の仕事（はん売）④」

年 組 名前

☆チャレンジ問題

次のしりょうは、スーパーマーケットにくるお客さんの意見を表したものです。これらを見て、次の問いに答えましょう。



(1) Aさんの意見にこたえるため、スーパーマーケットが行っているくふうについてあてはまらないものを、次の1~4から1つ選び、その番号を書きましょう。

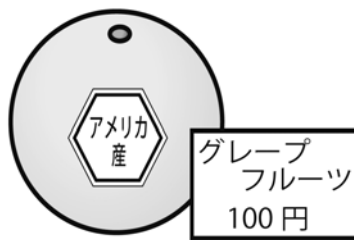
- 1 品物を日本国内だけでなく、外国からも仕入れる。
- 2 いつも買いに来てくれるお客さんの好みや、買い物の量を考えながら、むだなく仕入れる。
- 3 野菜や果物の一部を、青果市場を通さずに農家から直接仕入れる。
- 4 特売品などの商品をのせた広告チラシをくばる。

答え

(2) Bさんが買いたいと思う品物を、次の4つの絵から1つ選び、その番号を書きましょう。



1



2



3



4

答え

小学3年社会「まちの人々の仕事（市場）①」

年 組 名前

わたしたちが毎日食べている魚屋、やさいなどの生鮮食料品の多くは、日本全国から中央卸売市場おろしうりに集められ、町の八百屋さん、魚屋さん、スーパーの人たちが仕入れに來ます。東京には中央卸売市場が11あります。そのなかで今回は中央区にある築地市場つきじについて学習しましょう。

築地市場(東京卸売市場)とは

築地市場（東京卸売市場）…「東京の台所」とよばれていて、東京ドームが5つほどすっぽり入ってしまう広さです。



魚とやさいやくだものをあつかう2つの市場があります。

魚をあつかう量が日本で一番多い市場で、東京にあるほとんどの魚屋さんが買いに來ます。

品物はどうやって市場にとどくの？

生産者→運ぶ→入荷→卸売会社→セリなかおろしぎょうしゃ→仲卸業者かいだしにん→買出人→お店

魚をとる人
やさいを作る人など

セリ人が
下見をする

お店の人
など

セリ…買う人がきょうそうして品物にねだんをつけて、一番高いねだんをつけたひとがその品物を買うことができる。

セリ人(卸売会社の人)の仕事

- ・ 仲卸業者や売買参加者の人たちに売ることが仕事です。
- ・ 一人で十種類くらいの品物を受け持っています。
- ・ 築地市場にいつも必要な量りょうのやさいや魚がとどけられるように、産地に出かけ自分の目でたしかめています。1年間に日本中を何か所も訪れおとず、ときには外国にも行きます。
- ・ 品物を作っている人や食べる人のためにも、ちょうど良い値段ねだんで売ることがとても重要じゅうようです。

☆問題

次の中で、市場の仕事としてあてはまらないものがあります。1つえらび、その番号を書きましょう。

- 1 セリをする。
- 2 品物が入荷をする。
- 3 お店に品物を並べる。
- 4 買出人が品物を持って行く。

答え


小学3年社会「まちの人々の仕事（市場）②」

年 組 名前

☆問題

次の4つの絵は築地市場の一日のようすを表しています。絵を見て次の問いに答えましょう

1



買う人がきょうそうしてねだんをつける。

2




トラックや船などで、いろいろなところから品物が運ばれてくる。

3



品物の下見をする。

4



町の魚屋さんや、八百屋さんが買いにくる。

(1) 絵1のように品物を買う人がきょうそうしてねだんをつけることをなんというでしょう。

答え

(2) 1～4の絵を早い時間から行われるものからじゅんばんにならべかえて、その番号を書きましょう。

答え

→ → →

小学3年社会「まちの人々の仕事（市場）③」

年 組 名前

★問題

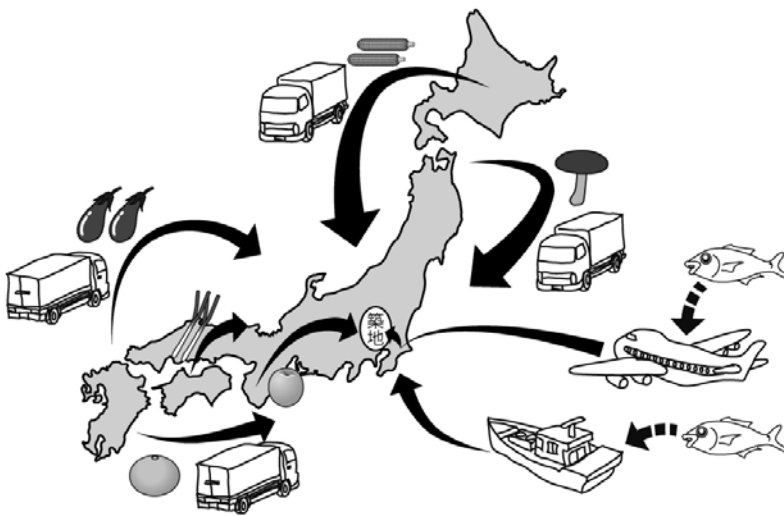
次の中で、築地市場の説明としてあてはまらないものがあります。1つえらび、その番号を書きましょう。

- 1 東京ドームが5つすっぽり入るほどの広さである。
- 2 「東京の台所」とも言われ、日本全国から魚、やさいなどの生鮮食料品せいせんしょくりょうひんが集められる。
- 3 魚をあつかう量が日本で一番多い市場である。
- 4 東京には中央卸売市場おろしうりが築地市場しかなく、東京のすべてのスーパーの人たちや魚屋さん、八百屋さんなどが築地市場におとずれる。

答え

★チャレンジ問題

次の絵、資料は築地市場に運ばれてくる品物についてまとめたものです。これら2つからわかることとして正しいものを次の1~4から1つ選びその番号を書きましょう。



1日に築地市場に運ばれてくる品物の量

魚	1121t
やさい	839t
くだもの	243t
加工品	684t

(2010年)

(東京都中央卸売市場資料より作成)

- 1 築地市場であつかわれている品物はすべて日本で生産されたものである。
- 2 築地市場には全く牛肉やぶた肉、鳥肉は運ばれてこない。
- 3 築地市場に運ばれてくる品物の中でもっとも多いのが魚で、その数は野菜の2倍以上である。
- 4 築地市場に運ばれてくる品物は新鮮なまま運ばないといけないので時間のかかるトラックでは運ばれない。

答え

小学3年社会「昔しらべ①」

年 組 名前

わたしたちがくらすまちには、昔から続いているいろいろな行事があります。これらのお祭りはどのようにして続いてきたのでしょうか。

年中行事

年中行事…これらの行事は毎年決まった時期に、昔から行われてきた行事。

① 年中行事にはどのようなものがあるか

- ・ まちで開かれるお祭り
- ・ ひな祭り
- ・ おぼん
- ・ 節分
- ・ 七夕
- ・ 七五三

② なぜこのような行事があるのか

作物のしゅうかくを感しゃし、地いきの人たちが平和で安全な生活を祈る。

日本にはこのほかにも、季節や地いきの特ちょうに合わせた、さまざまな年中行事があります。これらの年中行事は、町に住む人たちにとっての大切な楽しみなので、ずっと続けていけるように住人のみんなが協力しなければなりません。

③ 年中行事を調べる方法

- ・ 昔のことにくわしい人に手紙や電話でお願いして、話を聞く。
- ・ 図書館や図書室に行って、かかわりのある本や資料を読む。
- ・ いつ、どこで、どのような行事が行われているかを調べて、実際に参加する。
- ・ 古いものが残っている場所をたずねてみる。

中央区の年中行事

中央区にも多くの年中行事があり、なかでも佃の祭り、神田祭、山王祭は特に有名です。

① 佃の祭り

三年に一度、八月の月上旬に佃島で行われます。豊漁と海の安全をいのって行われる佃の祭りは、江戸時代の中ごろから今にいたるまでずっと続いています。

② 神田祭と山王祭

神田祭は神田明神、山王祭は日枝神社のお祭りです。日本橋地域で、江戸時代から、国が平和に栄えることをいのる祭りとして、二年に一度ずつ交互に行われます。

★問題

まちで行われる年中行事とは関係ないものを、次の1～4の中から1つ選び、その番号を書きましょう。

- 1 まちの神社のお祭り
- 2 七五三
- 3 結婚式
- 4 ひな祭り

答え



小学3年社会「昔しらべ②」

年 組 名前

★問題1

昔の暮らしについて調べるときに、つぎのようにテーマを決めました。このテーマを調べる方法として、あてはまらないものを、次の1~4から1つ選び、その番号を書きましょう。

テーマ…昔から受けつがれている年中行事のゆらいについて調べたい

- 1 昔のことにくわしい人に手紙や電話で^{ねが}お願いして、話を聞く。
- 2 図書館や図書室^{としよかん}に行き、かかわりのある本や資料^{しりょう}を読む。
- 3 いつ、どこで、どのような行事が行われているかを調べて、^{じっさい}実際に参加する。
- 4 古い地図と今の地図をくらべてみる。

答え

★問題2

他の地いきと同じように、中央区にも年中行事はたくさんあります。以下の文章A、Bは中央区の有名な年中行事について説明したものです。A、Bがあらわす年中行事の名前と、文章中の(1)~(3)に入る言葉を書きましょう。

A 三年に一度、八月の月上旬に（ 1 ）で行われます。^{ほうりょう}豊漁と海の安全をいのって行われます。江戸時代の中ごろから今にいたるまでずっと続いています。

B （ 2 ）のお祭りです。日本橋地域で、江戸時代から、国が平和に^{さか}栄えることをいのる祭りとして、神田明神のお祭りである（ 3 ）と二年に一度ずつ^{こうご}交互に行われます。

答え Aの年中行事

1

Bの年中行事

2

3

小学3年社会「昔しらべ③」

年 組 名前

☆チャレンジ問題

次の資料1は、ひろしさんが去年一年間で楽しかった行事を表にしたものです。また資料2、3、4は秋祭りに関して、地いきの人に聞いたものです。これらの資料を見て次の問いに答えましょう。

月	行事
2月	節分
5月	親せきの方の結婚式
7月	七夕
9月	運動会
10月	秋祭り
12月	クリスマス

資料1



資料2

感しゆ田
行しやう畑
わやくの昔
でれすかくの
す。いたを物
たためを神
そに様
う



資料3

お祭りは
昔から、地
人々によつて
続けられてい
です。きたの
守りの



資料4

地いきの一員
として、祭り
に参加して、うれ
しかったです。

(1) 資料1を見ると、ひろしさんが去年一年間で楽しかった行事の中には、年中行事と、それ以外のものが見られます。6つの行事を年中行事、年中行事以外、の2つに分けましょう。

答え 年中行事

年中行事以外

(2) ひろしさんのクラスでは、秋祭りに関して地いきの人に話を聞き、クラスで話し合いました。会話の中の(A)～(C)にあてはまる言葉、文を考えて書きましょう。

- あきこさん 「秋祭りは、昔から作物のしゅうかくを神様に感しやするために行われてきたんだね。」
- ひろしさん 「町会の方の話によると、ずっと(A)の力によって行われてきたそうだよ。」
- こうたさん 「秋祭りに参加することで、いろんな人に親切にしてもらえたんだ。」
- あきこさん 「秋祭りに参加したら、わたしたちは自分が(B)であることに気づくことができます。」
- ひろしくん 「わたしたちは(B)として、この秋祭りを(C)と思ったよ」

答え A

B

C