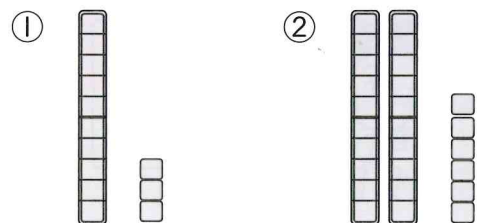



⑥ 10より おおきい かず

1ねん くみ ばん
なまえ

① □に ぶろっくの かずを かきましよう。(各10点)




□ □



□

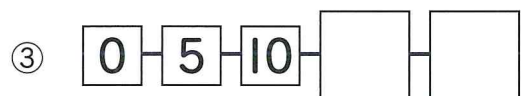
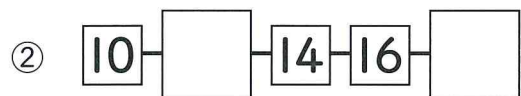
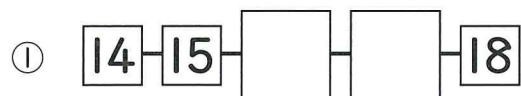
② かかれて いる ぶろっくの かずを □に かきましよう。(各10点)



14 19

□ □

③ □に かずを かきましよう。(各5点)



④ けいさんを しましよう。(各5点)

① 10+7

② 14-4

③ 15+4

④ 17-3

⑥ 10より おおきい かず

1ねん くみ ばん
なまえ

① かずのせんを かきたいと おもいます。したの { }の ただしい ほうを ○で かこみましよう。



① かずのせんは, $\left\{ \begin{matrix} 0 \\ 1 \end{matrix} \right\}$ から はじまります。

② かずのせんは, みぎに いくほど かずが $\left\{ \begin{matrix} \text{おおきく} \\ \text{ちいさく} \end{matrix} \right\}$ なります。

かずのせんに すうじを かこう。



③ 9より 4 おおきい かずは, $\left\{ \begin{matrix} 12 \\ 13 \end{matrix} \right\}$ です。

② おはじきを ならべました。おはじきの かずが わかりやすいと おもう ものに ○を つけましよう。

けんじ ☆☆☆☆☆☆☆☆☆☆☆☆☆☆☆☆☆☆☆ ()

のりこ ☆☆ ☆☆ ☆☆ ☆☆ ☆☆ ☆☆ ☆☆ ☆☆ ☆☆ ()

ゆり ☆☆☆☆☆ ☆☆☆☆☆ ☆☆☆☆☆ ☆ ()

こう ☆☆☆☆☆☆☆☆☆☆☆☆☆ ☆☆☆☆☆☆☆ ()

「10より おおきい かず」の がくしゅうを ふりかえりましよう。

● あてはまる ものに ○を つけましよう。

①すすんで がくしゅうできましたか。

②たのしく がくしゅうできましたか。