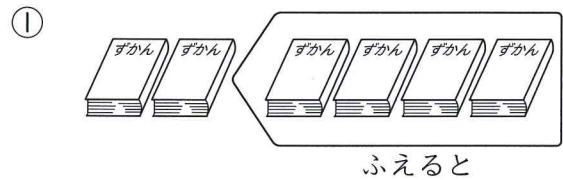


④ あわせていくつ
ふえるといくつ

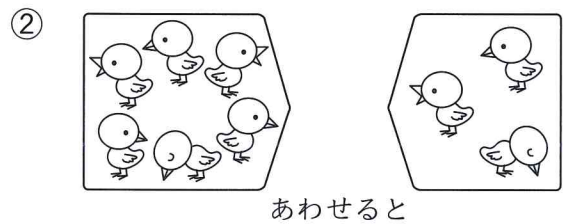
1ねん くみ ばん
なまえ

① しきに かきましょう。

〈各10点〉



しき



しき

② たしざんを しましょう。

〈各8点〉

① 5+1

② 4+4

③ 2+3

④ 1+6

⑤ 3+5

⑥ 8+2

⑦ 6+0

⑧ 3+4


⑨ 7+2

⑩ 9+1

④ あわせていくつ
ふえるといくつ

1ねん くみ ばん
なまえ

① 4+5の しきになる おはなしに ○を つけましょう。



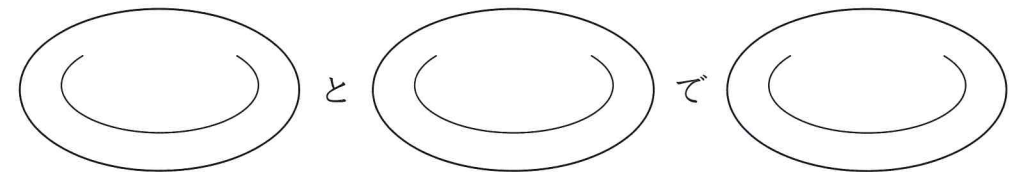
() つばめが 4わ います。5わ とんで きました。

() つばめが います。5わ とんで きました。

() つばめが 4わ います。5わ とんで きました。

みんなで なんわに なりましたか。

② しきに あうように、おさらに りんごの えを かきましょう。



(しき) 0 + 3 = 3

✎ 「あわせていくつ ふえるといくつ」の がくしゅうを ふりかえりましょう。

● あてはまる ものに ○を つけましょう。

①すすんで がくしゅうできましたか。

②たのしく がくしゅうできましたか。