

③ いくつといくつ



1ねん くみ ばん
なまえ

1 2まいの かあどで 7をつくります。


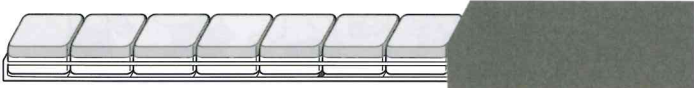

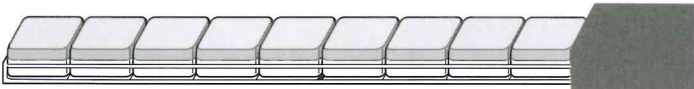
□に かずを かきましよう。

〈各10点〉

- ① と ② と ③ と

2  が 10こ あります。かくれている  の かずを, □に かきましよう。

〈各10点〉

- ① 
- ② 
- ③ 
- ④ 

3 あと いくつで 8になりますか。

□に かずを かきましよう。

〈各10点〉

- ① と ② と ③ と

③ いくつといくつ

1ねん くみ ばん
なまえ




1 けんたさんは もんだいをつくりました。

こたえの かあどに ○をつけましよう。

あと いくつで 9になりますか。

5

けんた

- ① ()  ()  ()
- ②  () () ()

2 あわせて 10になるように, □に かずを かきましよう。

- ① と ② と
- ③ と ④ と
- ⑤ と







いろいろ つくれましたか。



「いくつといくつ」の がくしゅうを ふりかえりましよう。

● あてはまる ものに ○をつけましよう。

①すすんで がくしゅうできましたか。    

②たのしく がくしゅうできましたか。 