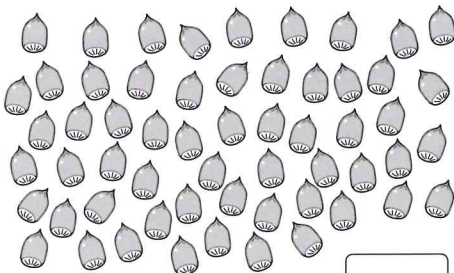
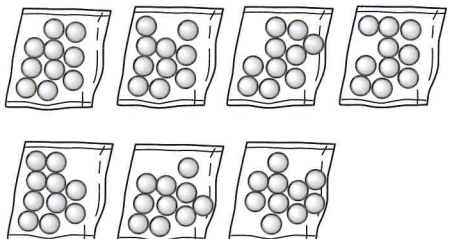


# 15 おおきいかず

1ねん くみ ばん  
なまえ

1 いくつ ありますか。 <各5点>

① 

② 

2 に かずを かきましょう。 <各10点>

- ① 10が 6こと 1が 9こで  です。
- ② 10が 5こで  です。
- ③ 47は、10が  こと、  
1が  ことです。

3 どんな かずですか。 <各10点>



- ① 80より 3 おおきい かず
- ② 90より 4 ちいさい かず
- ③ 88より 4 おおきい かず
- ④ 100より 2 ちいさい かず

4 おおきい ほうに ○を つけましょう。 <各10点>

- ① 

76
----

67
----

  
( ) ( )
- ② 

54
----

58
----

  
( ) ( )


# 15 おおきいかず


1ねん くみ ばん  
なまえ


かずの ひょう

0	1	2	3	4	5	6	7	8	9
10	11	12	13	14	15	16	17	18	19
20	21	22	23	24	25	26	27	28	29
30	31	32	33	34	35	36	37	38	39
40	41	42	43	44	45	46	47	48	49
50	51	52	53	54	55	56	57	58	59
60	61	62	63	64	●	66	67	68	69
70	71	72	73	74	75	76	77	78	79
80	81	82	83	84	85	86	87	88	89
90	91	92	93	94	95	96	97	98	99
100									

1 まことさんと みさきさんは、  
かずの ひょうの ●の かずを  
かんがえています。  
に あてはまる かずを  
かきましょう。

①  たてに みました。一のくらは <sup>いち</sup>みんな  なので、  
●の 一のくらしも  です。十のくらしは  ずつ  
ふえているので、●の 十のくらしは  です。

②  よこに みました。一のくらしは  ずつ ふえて  
いるので、●の 一のくらしは  です。十のくらしは  
みんな  なので、●の 十のくらしは  です。

 「おおきいかず」の がくしゅうを ふりかえりましょう。

- 1 あてはまる ものに ○を つけましょう。  
①すすんで がくしゅうできましたか。
- ②たのしく がくしゅうできましたか。
- 2 がくしゅうして おもった ことや もっと がくしゅうしたい ことを かきましょう。