


18 かたちづくり

1ねん くみ ばん
なまえ

1 ①から④のかたちをつくりまします。それぞれ⑥のいろいたはなんまいいらいますか。

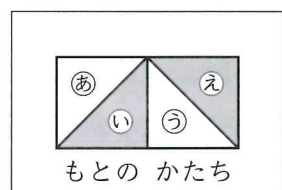
〈各10点〉



① まい ② まい
③ まい ④ まい

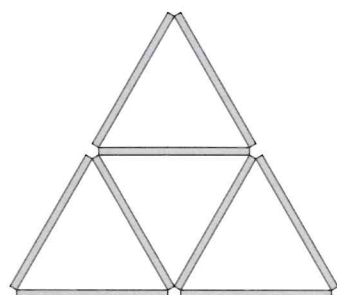
2 もとのかたちからいろいたを1まいうごかして、①と②のかたちをつくりまします。

うごかしたいろいたは、⑥、⑦、⑧のどれですか。〈各10点〉



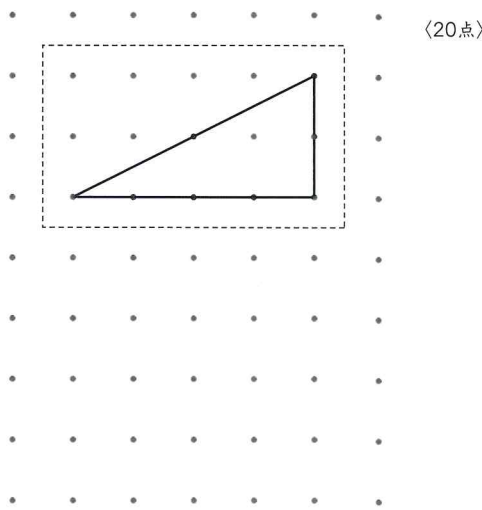
① ()
② ()

3 かぞえぼうをつかってしたのかたちをつくりまします。このかたちには、むきやおおきさのちがうさんかくがいろいろかくれています。さんかくは、ぜんぶでなんこありますか。〈20点〉



こ

4 のなかのかちと おなじかたちをかきましよう。〈20点〉

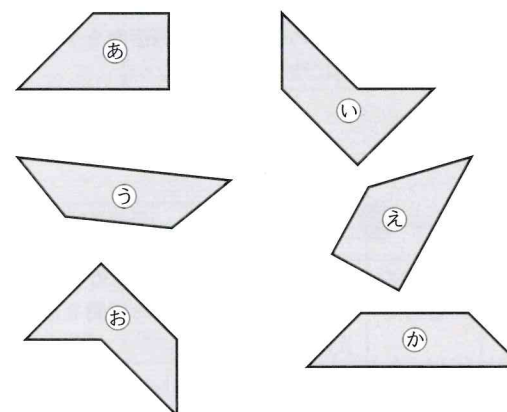



18 かたちづくり

1ねん くみ ばん
なまえ

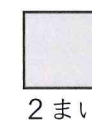
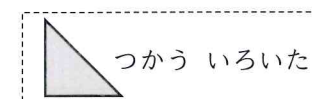
1 さんかくのいろいたを3まいつかって、いろいろなかたちをつくりまします。

おなじかたちはどれとどれですか。



と
 と
 と

2 さんかくのいろいたをつかって、つぎのしかくをつくりまします。しかくのしたにかいてあるまいすうでつくる時、いろいたのさかいめにせんをかきましよう。



「かたちづくり」の がくしゅうを ふりかえりましよう。

1 あてはまるものに○をつけましよう。
①すすんで がくしゅうできましたか。

②たのしく がくしゅうできましたか。

2 がくしゅうして おもった ことや もっと がくしゅうしたい ことを かきましよう。