

**17** ずをつかって かんがえよう

1ねん くみ ばん  
なまえ

**1** ともさんは、まえから6ばんめに のっ ています。ともさんの うしろに 5にんの のっ ています。みんなで なんにん のっ ていますか。

〈式15・答10点〉

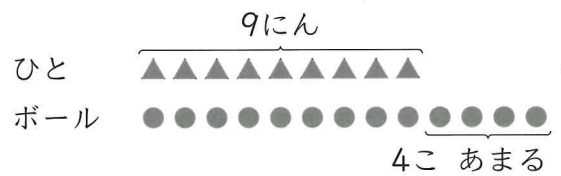


しき

こたえ  にん

**2** 9にんが 1こずつ ボールをつかうと、ボールは 4こあまります。

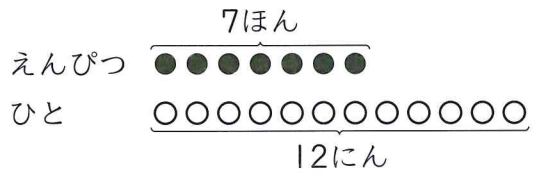
ボールは、ぜんぶで なんこありますか。 (式15・答10点)



しき

こたえ  こ

**3** えんぴつが 7ほん あります。ひとりに 1ぽんずつ、12にんにくばろうと しています。えんぴつが もらえない ひとはなんにんですか。 (式15・答10点)




しき

こたえ  にん

**4** すずめが 11わ います。はとは、すずめより 3わすくないそうです。

はとは、なんわ いますか。 (式15・答10点)




しき

こたえ  わ

**17** ずをつかって かんがえよう

1ねん くみ ばん  
なまえ



**1** 14にんの こどもが きしゃを まっ ています。ひろしさんは、まえから 6ばんめに います。みのるさんは、ひろしさんの うしろのひとから かぞえて 5ばんめに います。きしゃが 3にん のせて きました。あいて いる せきは 7つです。

うえの えと おはなしから、3つの もんだいを かんがえました。それぞれの もんだいの こたえを もとめる しきを えらんで、せんで むすびましょ。

- ① きしゃには ぜんぶで なんにん のれますか。   $6+5$
- ② мいのるさんは まえから なんばんめに いますか。   $14-6$
- ③ ひろしさんの うしろには なんにん いますか。   $14-7$
- ④ ひろしさんの うしろには なんにん いますか。   $3+7$

「ずをつかってかんがえよう」の がくしゅうを ふりかえりましょ。

● あてはまる ものに ○を つけましょ。

- ①すすんで がくしゅうできましたか。
- ②たのしく がくしゅうできましたか。