


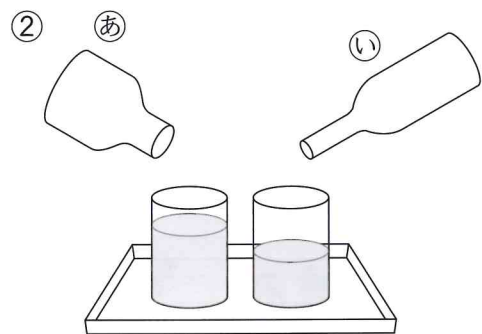
10 どちらがおおい

1ねん くみ ばん
なまえ

1 ① ②のどちらのびんに、
みずがおおくはいるか
くらべます。 (各20点)

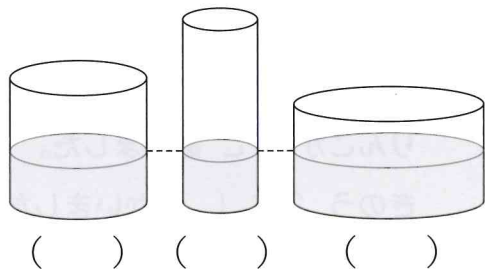


あふれたから、のほうか
みずはおおくはいる。




のほうかみずの
たかさがたかいから、の
ほうかみずはおおくはいる。

2 みずがいちばんおおい
ものに○をつけましょう。(20点)



3 みずが、③、④のどちらの
びんにどれだけおおく
はいるかしらべます。(各10点)



③はこっぷはいぶんはいる。

④はこっぷはいぶんはいる。



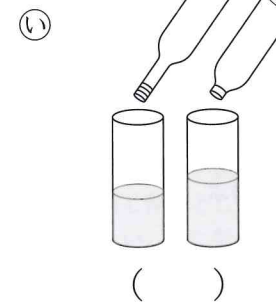



のほうか、こっぷ

はいぶん おおくはいる。

10 どちらがおおい

1ねん くみ ばん
なまえ

1 ゆみさんは、えほんの たてとよこの
ながさを ^{かぞえぼう} をつかってくらべました。
つぎに、どちらのびんにみずが
おおくはいるか、くらべます。
ながさをくらべたときとおなじかんがえて
くらべているものに○をつけましょう。



「どちらがおおい」の がくしゅうを ふりかえりましょう。

● あてはまるものに○をつけましょう。

①すすんで がくしゅうできましたか。

②たのしく がくしゅうできましたか。