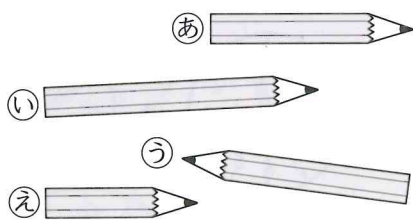


8 どちらがながい

1ねん くみ ばん
なまえ

1 えんぴつのながさをくらべています。 (各10点)




① いちばんながい えんぴつはどれですか。

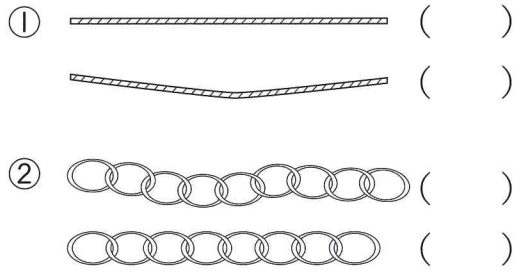
② いちばんみじかい えんぴつはどれですか。

③ したのようにして、2ばんめにながい えんぴつをしらべました。

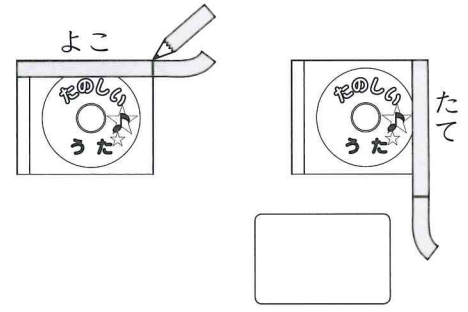
2ばんめにながい えんぴつはどれですか。




2 ながいほうに○をつけましょう。 (各10点)



3 どちらがながいでしょうか。 (20点)



4 ほんのたてとよこのながさをくらべます。 (各10点)



たてはめもり つぶん。
よこはめもり つぶん。
 のほうがながい。


8 どちらがながい

1ねん くみ ばん
なまえ

1 あなたは、つくえのたてとよこのながさをどのようにしてくらべますか。

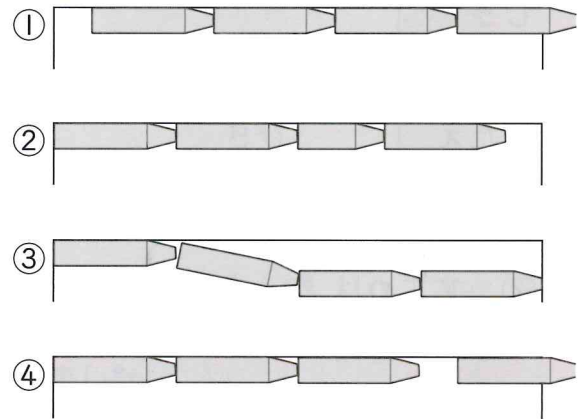
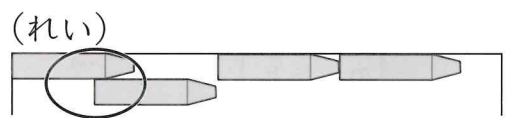
いちばんよいとおもうものに○をつけましょう。

- () みんなのけしごむをあつめてならべる。
- () じぶんのてのゆびをひろげてはかる。
- () おはじきをならべる。
- () おなじながさのかぞえぼうをならべる。



2 くれよんをつかってながさをはかっています。

はかりかたがただしくないところを(れい)のように○でかこみましょう。



「どちらがながい」の がくしゅうを ふりかえりましょう。

● あてはまるものに○をつけましょう。

①すすんで がくしゅうできましたか。

②たのしく がくしゅうできましたか。