

1


しぜんのかんさつ

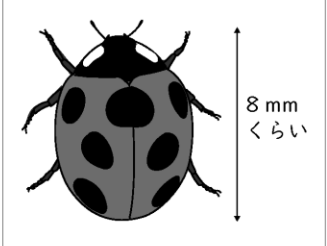
組 _____
名前 _____

100

1 生きもののすがたをかんさつして、かんさつカードを書きました。かんさつカードの①～⑦には、何が書かれていますか。後のア～キからえらんで書きなさい。

各4点×7 (知識・技能)

①	セイヨウタンポポ	②	4月14日 晴れ
	動物・植物		
③	花をさわったらやわらかかった。		
			
④	花の色は黄色だった。		
⑤	葉がぎざぎざしていた。		
⑥	全体が広げた手のひらくらいの大きさだった。		
⑦	天野 かずき		

①	ナナホシテントウ	②	4月14日 晴れ
	動物・植物		
			
④	赤い色に、黒い丸が7つあった。		
⑤	丸い形をしていた。		
⑥	体の長さは8mmくらいだった。		
⑦	山田 ともみ		

- ア 自分の名前 イ かんさつした日づけや天気
ウ 生きものの形 エ 生きものの色
オ 生きものの名前 カ 生きものの大きさ
キ 絵で表せない生きものようすや言葉でせつめいたいこと

- ① (オ) ② (イ) ③ (キ) ④ (エ) ⑤ (ウ)
⑥ (カ) ⑦ (ア)

2 虫めがねを使って、花のかんさつをしました。

(知識・技能)

(1) 手に持っている花をはっきりと見るには、右のア、イのどちらを動かすとよいですか。

10点 (イ)



(2) 虫めがねで花を見ると、花はどのように見えますか。

- 大きく見える
こまかいところが見える

(3) 目をいためてしまうので、虫めがねで見てはいけなものは何ですか。


10点 (太陽)

3 生きもののせつめいとして正しいものには○、まちがっているものには×を、()に書きなさい。

各10点×4 (思考・判断・表現)

① (○) チューリップは生きものである。

② (○) ナナホシテントウは動物である。



③ (×) チョウの大きさは、どれも同じである。

④ (×) 黄色い花がさくのは、タンポポだけである。

