


○九九を見なおそう

名前()

めあて


いろいろなもとめ方で 12×4 のこたえをもとめよう。

①自分の考えを、図や式を使ってかきましょう。



②こうたさんの考え方の□に数字を入れ、こうたさんの考え方を文で書いてみよう。

こうた



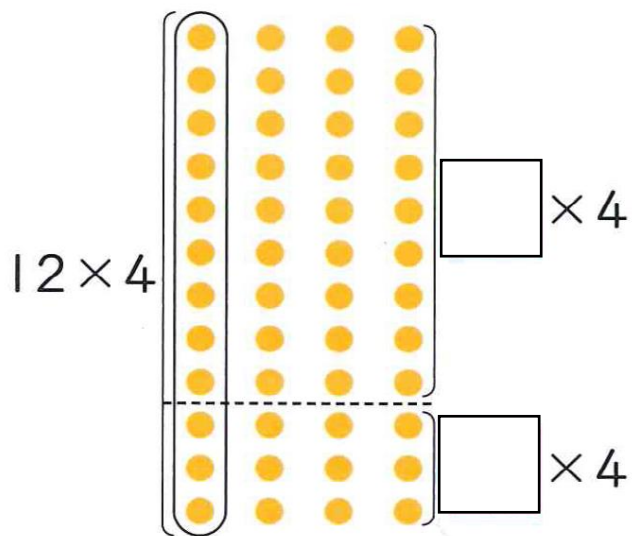
$12 + 12 + 12 + 12 =$

こうたさんは、

③ 12×4 の答えはいくつですか。

④みさきさんの考え方の□に数字を入れましょう。

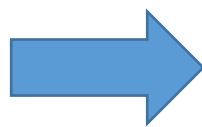
みさき




⑤しほさんの考え方の□に数字を入れましょう。しほさんの式を見て、しほさんの考えを図を使って表しましょう。

しほ

$$12 \times 4 \begin{cases} 10 \times 4 = 40 \\ 2 \times 4 = 8 \end{cases}$$



$$40 + 8 = \square$$



チャレンジ問題

⑥みさきさんとしほさんの考えの似ているところが見つけられるかな？

練習問題 教科書17ページ

① 学習したことを使って、 13×5 の答えをもとめましょう。

