

プリント43

○時こくと時間のもとめ方を考えよう 名前()

(教科書28～29ページ)

めあて

時こくと時間のもとめ方を考えよう。

・時こくと時間とは…

時こく…9時や9時15分などの読み方

時間…時こくと時こくの間

(教科書151ページにも説明があるよ！)

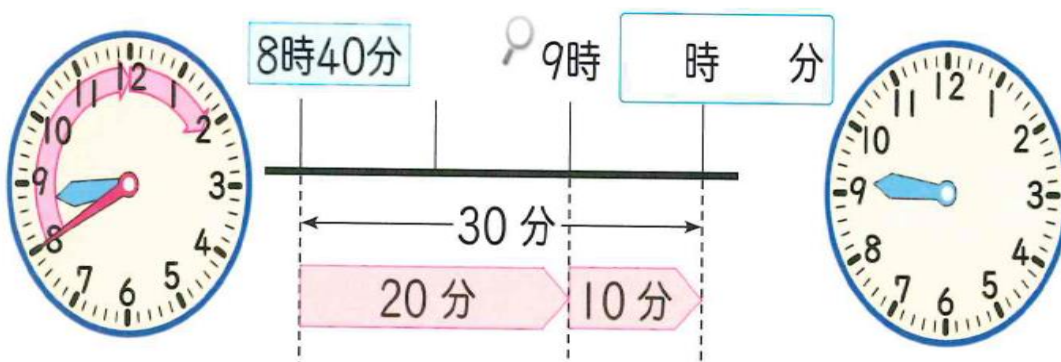



教科書28～29の問題を考えます。動画を見てすすめましょう。

①学校を出た時こくをもとめよう。




②学校をでた時こくの30分後の時こくをもとめよう。



時計に、長いはりをかきこもう。

③ 商店街を出た時こくと公園に着いた時こくをもとめよう



④ 商店街を出てから公園に行くまでにかかった時間をもとめよう。

9時50分 10時 10時10分

10分 10分

分

ちよどの時こくをもとに考えると、時間をもとめやすいね。

あみ

【練習問題】

① 7時50分から40分後の時こくをもとめましょう。

時 分

② 10時30分から11時10分までの時間をもとめましょう。

分

③ 10時40分から11時15分までの時間をもとめましょう。

分

教科書 28～29 ページ
下の図を見て考えると
分かりやすいよ！