



メダカのたんじょう

教科書を参考にしながら学習しましょう。

名前 ()

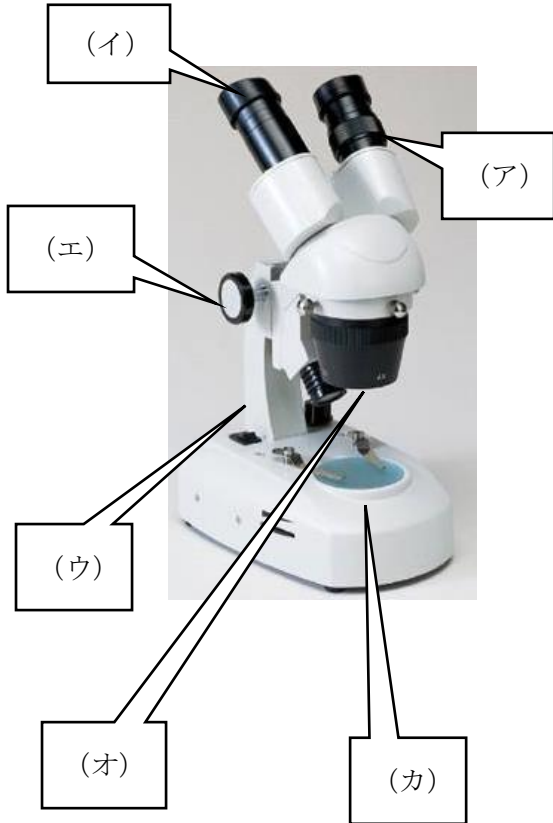
① メダカのおすとめすには、体のようすにちがいがあります。

下の図を見て、ちがうところを見付けて書きましょう。

おす	めす
	
•	•

② 教科書179ページを参考に、そう眼実体けんび鏡の使い方をまとめましょう。

○そう眼実体けんび鏡の(ア)～(オ)の部位の名前を答えましょう。



(ア)		(エ)	
(イ)		(オ)	
(ウ)		(カ)	

○そう眼実体けんび鏡の使い方について、下記の()に当てはまる言葉を入れましょう。

- ① 見るものをステージの()に置く。接眼レンズのはばをおおよそ目のはばに合わせ、両目で見ると見えていたものが1つに重なるようにはばを調整する。
- ② 右目でのぞきながら調節ねじを回して、はっきり()に調節する。左目でのぞきながら、視度調節リングを回して、はっきり見えるように調節する。
- ③ 観察したい部分が対物レンズの()にくるように観察する。